



MUNICÍPIO DE VITÓRIA

Concurso Público

Aplicação: 6/5/2007



Cargo:
AUDITOR FISCAL DO TESOUREO MUNICIPAL

Caderno ALFA

LEIA COM ATENÇÃO AS INSTRUÇÕES ABAIXO.

- 1 Ao receber este caderno, confira atentamente se o tipo de caderno — Caderno ALFA — coincide com o que está registrado em sua folha de respostas. Em seguida, verifique se ele contém cento e vinte itens, correspondentes às provas objetivas, corretamente ordenados de 1 a 120.
- 2 Caso o caderno esteja incompleto ou tenha qualquer defeito, solicite ao fiscal de sala mais próximo que tome as providências cabíveis.
- 3 Não utilize lápis, lapiseira, borracha e(ou) qualquer material de consulta que não seja fornecido pelo CESPE/UnB.
- 4 Não se comunique com outros candidatos nem se levante sem autorização do chefe de sala.
- 5 Recomenda-se não marcar ao acaso: cada item cuja resposta divirja do gabarito oficial definitivo receberá pontuação negativa, conforme consta em edital.
- 6 A duração das provas é de **quatro horas**, já incluído o tempo destinado à identificação — que será feita no decorrer das provas — e ao preenchimento da folha de respostas.
- 7 Você deverá permanecer obrigatoriamente em sala por, no mínimo, uma hora após o início das provas e poderá levar o seu caderno de provas somente no decurso dos últimos **quinze minutos** anteriores ao horário determinado para o término das provas.
- 8 Ao terminar as provas, chame o fiscal de sala mais próximo, devolva-lhe a sua folha de respostas e deixe o local de provas.
- 9 A desobediência a qualquer uma das determinações constantes no presente caderno ou na folha de respostas poderá implicar a anulação das suas provas.

AGENDA (Datas Prováveis)

- I **8/5/2007**, após as 19 h (horário de Brasília) – Gabaritos oficiais preliminares das provas objetivas: Internet — www.cespe.unb.br/concursos/pmvauditor2007.
- II **9 e 10/5/2007** – Recursos (provas objetivas): exclusivamente no Sistema Eletrônico de Interposição de Recurso, Internet (veja item I), mediante instruções e formulários que estarão disponíveis nesse sistema.
- III **8/6/2007** – Resultado final das provas objetivas e convocação para entrega da documentação para avaliação de títulos: Imprensa Oficial do Município e Internet (veja item I).

OBSERVAÇÕES

- Não serão objeto de conhecimento recursos em desacordo com o item 12 do Edital n.º 3/2007 – PMV/AUDITOR, de 9/3/2007.
- Informações adicionais: telefone 0(XX) 61 3448-0100; Internet — www.cespe.unb.br/concursos/pmvauditor2007.
- É permitida a reprodução deste material apenas para fins didáticos, desde que citada a fonte.

- De acordo com o comando a que cada um dos itens de 1 a 120 se refira, marque, na **folha de respostas**, para cada item: o campo designado com o código **C**, caso julgue o item **CERTO**; ou o campo designado com o código **E**, caso julgue o item **ERRADO**. A ausência de marcação ou a marcação de ambos os campos não serão apenadas, ou seja, não receberão pontuação negativa. Para as devidas marcações, use a **folha de respostas**, único documento válido para a correção das suas provas.
- Nos itens que avaliam **Noções de Informática**, a menos que seja explicitamente informado o contrário, considere que todos os programas mencionados estão em configuração-padrão, em português, que o *mouse* está configurado para pessoas destros e que expressões como clicar, clique simples e clique duplo referem-se a cliques com o botão esquerdo do *mouse*. Considere também que não há restrições de proteção, de funcionamento e de uso em relação aos programas, arquivos, diretórios e equipamentos mencionados.

CONHECIMENTOS BÁSICOS

1 O Brasil tem-se caracterizado por perenizar
2 problemas, para os quais não se encontram soluções ao longo
3 de décadas. A população, com toda pertinência, cobra do
4 setor público providências capazes de mitigar suas angústias,
5 como o baixo crescimento da economia, o desemprego e a
6 insegurança.

7 Criticar é legítimo, mas não basta! É preciso que a
8 sociedade civil — coordenando esforços e ações de
9 empresas, fundações, ONGs e entidades de classe — seja, ao
10 lado dos poderes constituídos, agente cada vez mais atuante
11 na promoção de transformações socioeconômicas positivas.

12 Dois dos temas em que a nação patina há décadas:
13 a situação da população carcerária, que se torna uma das
14 causas do aumento da criminalidade, e a morosidade do
15 Poder Judiciário, cuja relação de causa e efeito com graves
16 e diversificados problemas, inclusive o da violência,
17 prejudica pessoas físicas e jurídicas. Afinal, não há
18 civilização, bem-estar e ambiente para negócios sem
19 entendimento e justiça.

Ellen Gracie e Paulo Skaf. *Folha de S. Paulo*, 18/3/2007.

Em relação ao texto acima, julgue os itens a seguir.

- 1 Pelos sentidos do texto, a sociedade civil não deve ter
2 responsabilidade sobre as transformações socioeconômicas,
3 que decorrem da ação de empresas, fundações, ONGs,
4 entidades de classe e poderes constituídos.
- 5 Em “tem-se” (l.1), o “se” indica que o sujeito da oração é
6 indeterminado.
- 7 Para o trecho “não se encontram soluções” (l.2), a redação
8 **não são encontradas soluções** mantém a correção
9 gramatical do período.
- 10 A expressão “mitigar suas angústias” (l.4) está sendo
11 empregada no sentido de **atenuar suas angústias**.
- 12 O emprego de vírgula logo após “economia” (l.5) e o
13 emprego de vírgula logo após “civilização” (l.18) têm a
14 mesma justificativa gramatical.

1 Em dezembro de 1991, uma lei criou o Fundo de
2 Apoio à Ciência e Tecnologia do Município de Vitória
3 (FACITEC), formado por recursos orçamentários da cidade.
4 O fundo começou a operar em 1993, financiando projetos e
5 bolsas de pesquisa, eventos, projetos de base tecnológica e
6 a elaboração de teses. Em 11 anos de funcionamento, foram
7 aplicados R\$ 4,6 milhões em diversas ações e em 165
8 projetos de pesquisa.

9 O FACITEC é gerido pelo Conselho Municipal de
10 Ciência e Tecnologia, formado por treze pessoas,
11 representantes da prefeitura, do governo estadual, da câmara
12 municipal, da comunidade científica, empresarial e dos
13 trabalhadores. Apóia projetos voltados para ação social,
14 desenvolvimento econômico e urbano, educação, meio
15 ambiente, saúde pública, tecnologia da informação,
16 transportes e infra-estrutura urbana.

17 Criada nos anos 50, a Universidade Federal do
18 Espírito Santo (UFES) é hoje a principal parceira da
19 prefeitura de Vitória. Entre os projetos bancados pelo
20 FACITEC, estão desde uma pesquisa que levantou o perfil
21 empreendedor da grande Vitória a pesquisas socioambientais
22 para reurbanização de áreas degradadas.

23 Estudos em infra-estrutura urbana criaram novas
24 soluções para a cidade, como o que desenvolveu um sistema
25 eletrônico para ativar as lâmpadas da rede de iluminação
26 pública. Na saúde, o município destaca o projeto MONICA
27 — Monitoramento Cardiovascular —, em que se quantificou
28 o risco de a população de Vitória na faixa de 25 a 64 anos ter
29 problemas cardiovasculares. Na área de tecnologia da
30 informação, Vitória financiou várias pesquisas, entre elas
31 uma de aplicação do sistema de informações geográficas
Springs para mapear as áreas de risco em encostas do
município.

Internet: <www.inovacao.unicamp.br> (com adaptações).

Com base no texto acima, julgue os itens que se seguem.

- 6 Sem prejuízo para a correção gramatical, a passagem
7 “a pesquisas socioambientais” (l.21) poderia ser substituída
8 por **às pesquisas socioambientais**.
- 9 A forma verbal “Apóia” (l.13) tem como sujeito “câmara
10 municipal” (l.11-12).
- 11 Na linha 27, a substituição dos travessões por parênteses
12 prejudica a correção gramatical do período.

9 Mantendo-se a correção gramatical do período, o trecho “em que se quantificou” (l.27) poderia ser reescrito da seguinte maneira: por meio do qual se quantificou.

10 O emprego da vírgula logo após “informação” (l.30) justifica-se por isolar expressão de natureza restritiva.

1 É chamado de litoral oriental o que se estende de Salvador ao estado do Espírito Santo. É um litoral típico de transição entre o norte e o sul, com extensas praias retilíneas.
4 Quebrando essa monotonia, ressurgem, em pontos esparsos, as barreiras do litoral nordestino e os recifes de coral do tipo franja, e, na altura de Vitória (capital do Espírito Santo),
7 começam a surgir os contrafortes cristalinos do planalto atlântico que irão caracterizar todo o litoral sudeste. Em alguns pontos desse litoral, onde desembocam rios caudalosos, reaparecem os estuários obstruídos pelos cordões de restinga, típicos do litoral norte. Na costa leste, os peixes mais importantes para a pesca comercial são
10 caranhas, olhetes, pampos, tainhas, garoupas, badejos, pescadas, corvinas e robalos. É ao largo da costa leste, na altura de Vitória, que se encontram os melhores locais para
16 a prática da pesca oceânica, onde são capturados os grandes peixes oceânicos, como os marlins azuis e brancos, *sailfishes*, *spearfishes*, espadartes e dourados-de-alto-mar.
19 Do litoral sul da Bahia, na altura de Ilhéus, até Vitória, a plataforma continental alarga-se progressivamente, só retornando ao normal no litoral do estado do Rio de Janeiro.
22 Na região entre Caravelas, sul da Bahia, e São Mateus, norte do Espírito Santo, a plataforma continental prolonga-se por mais de 200 quilômetros para fora da costa, formando
25 extensos planaltos submersos com profundidades médias de 200 metros. Suas bordas, muitas vezes, elevam-se bruscamente para 50 metros para depois decair, de forma
28 abrupta, para mais de 400 metros de profundidade. Esses trechos rasos da plataforma serviram de base para numerosos recifes de coral, muito perigosos para a navegação.

Internet: <www.institutoaqualung.com.br>.

Em relação ao texto apresentado acima, julgue os itens subseqüentes.

- 11 Infere-se das informações do texto que no litoral da costa leste predomina a pesca de lazer.
- 12 A expressão “desse litoral” (l.9) retoma o antecedente “litoral nordestino” (l.5).
- 13 A forma verbal “reaparecem” (l.10) está no plural para concordar com “rios caudalosos” (l.9-10).
- 14 A redação **para fora da costa e forma** em lugar de “para fora da costa, formando” (l.24) mantém a correção gramatical do período.
- 15 A inserção de **que são** imediatamente antes de “muito perigosos” (l.30) mantém a correção gramatical do período.

1 A Câmara Municipal de Vitória (CMV) esteve representada na XVIII Descida Ecológica do Rio Jucu. Segundo o presidente da CMV, Alexandre Passos, a
4 participação da Câmara de Vitória, que é uma das instituições que apóiam o Comitê da Bacia Hidrográfica do Rio Jucu, é fundamental para unir esforços junto a outros
7 órgãos e entidades, no intuito de preservar e recuperar o rio.

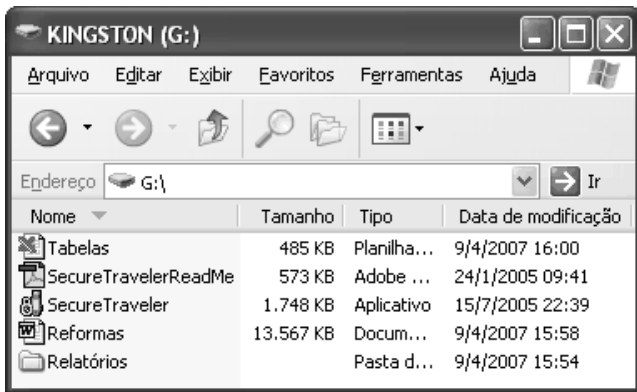
“A cidade de Vitória é o município que tem o maior consumo entre todos os abastecidos pela bacia hidrográfica do rio Jucu. É a água do rio Jucu que abastece toda a área continental do nosso município. Atualmente nós consumimos diariamente 82.651 metros cúbicos, o que equivale a um
10 consumo de 82.651 caixas de água de mil litros por dia”, ressaltou.

Passos também evidenciou que a preservação do rio Jucu é importante em todos os sentidos. “O rio Jucu, devido a sua potencialidade como fonte de geração de energia hidrelétrica, é estratégico para todas as atividades
16 econômicas”. Passos lembrou que as cidades atendidas por essa bacia desenvolvem atividades agropecuárias, turísticas e industriais, entre outras.

Internet: <www.cmv.es.gov.br> (com adaptações).

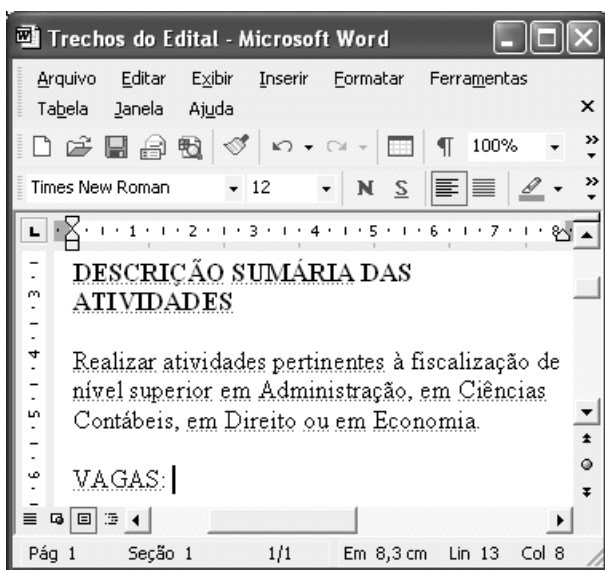
Em relação ao texto acima, julgue os itens que se seguem.

- 16 Infere-se das informações do texto que a XVIII Descida Ecológica do Rio Jucu e o Comitê da Bacia Hidrográfica do Rio Jucu fazem parte de um esforço para preservar e recuperar o rio.
- 17 O emprego de vírgulas logo após “Vitória” (l.4) e “Jucu” (l.6) justifica-se por isolar oração de natureza explicativa.
- 18 Na linha 11, o emprego dos pronomes “nosso” e “nós” insere, nas afirmações em que ocorrem, Alexandre Passos e a população de Vitória, respectivamente.
- 19 Se as expressões “ressaltou” (l.14), “evidenciou” (l.15) e “lembrou” (l.19) forem substituídas entre si, alteram-se as informações do texto e prejudica-se a sua correção gramatical.
- 20 O trecho ‘devido a sua potencialidade’ (l.16-17) ficaria incorreto se fosse colocado sinal indicativo de crase em ‘a’.



Considerando a figura acima, que mostra uma janela do Windows XP, julgue os próximos itens.

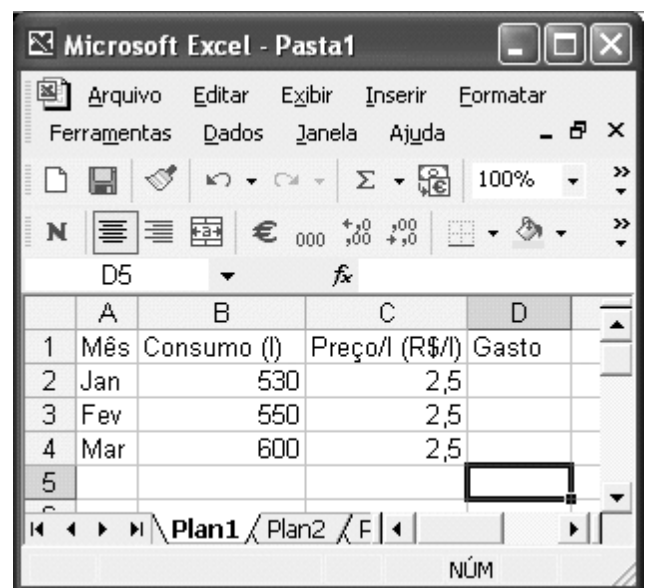
- 21 A janela mostra o conteúdo de um disquete de 3½".
- 22 A janela possui funcionalidade que permite exibir os arquivos em ordem crescente ou decrescente de data de modificação.
- 23 Ao se clicar o ícone 'Relatórios' e, em seguida, se clicar , será aberta a janela denominada Relatórios. Nessa janela, serão exibidos os arquivos armazenados na pasta associada ao ícone mencionado.



A figura acima mostra uma janela do Word 2002, que está sendo usada para edição de um documento em um computador cujo sistema operacional é o Windows XP. Com relação a essa figura e ao Word 2002, julgue os itens seguintes.

- 24 Existem diversas formas de se iniciar o programa Word 2002. Uma delas consiste em se adicionar à área de trabalho do Windows XP um atalho para o Word 2002 e aplicar um clique duplo no ícone associado a esse atalho.
- 25 Ao se clicar o botão , serão exibidos na janela alguns caracteres que representam, por exemplo, tabulação e marcas de parágrafo. Entretanto, mesmo sendo exibidos, esses caracteres não são impressos quando o documento é enviado para uma impressora.

- 26 O botão possui funcionalidades que permitem, por meio de uma seqüência adequada de ações, abrir um arquivo do tipo Word que esteja armazenado no disco rígido do computador em uso.
- 27 Ao se selecionar o parágrafo iniciado em “Realizar atividades”, e se clicar o botão , é aplicado a esse parágrafo um efeito semelhante ao de uma marca-texto, que realça o texto aplicando-lhe uma cor de fundo. A cor utilizada na marcação pode ser alterada por meio da janela Opções, que é acessível no menu **Ferramentas** .
- 28 Caso, acidentalmente, se realize uma ação indesejada que exclua do documento um grande trecho de texto, é possível, muitas vezes, desfazer-se a ação indesejada e recuperar-se o texto perdido por meio de funcionalidades do botão .






A figura acima mostra uma janela do Excel 2002 contendo uma planilha que está sendo editada por um usuário, em um computador cujo sistema operacional é o Windows XP. Na planilha, o usuário procura quantificar o consumo e o gasto mensal com gasolina de um veículo. Nela, a coluna B contém o consumo mensal de litros de gasolina nos meses de janeiro, fevereiro e março, e a coluna C contém o preço do litro de gasolina em cada um desses meses. Com relação a essa situação hipotética e ao Excel 2002, julgue os itens que se seguem.

- 29 Para se calcular o gasto total de gasolina nos três meses, pondo o resultado na célula D5, é suficiente realizar-se a seguinte seqüência de ações: clicar a célula D2; digitar $B2 \times C2$ e, em seguida, teclar ; finalmente, copiar o conteúdo da célula D2 para as células D3 e D4.
- 30 Para se aumentar a largura da coluna A, é suficiente realizar-se a seguinte seqüência de ações: clicar o cabeçalho da coluna A — **A** —; clicar o botão ; selecionar, na guia que aparece após essa ação, a largura desejada para a coluna.



Considerando a figura acima, que mostra uma janela do Internet Explorer 6 (IE6) em que uma página da Web está sendo acessada, julgue os itens subsequentes.

- 31 Ao se clicar o botão , é acionada uma ferramenta cuja função é permitir a edição de páginas da Web usando-se a linguagem htmlL.
- 32 Ao se clicar o botão , é aberta uma caixa de diálogo na qual o usuário pode definir a primeira página que será aberta quando o IE6 for iniciado.
- 33 A janela mostrada não está maximizada, e é possível que ocupe apenas uma parte da tela do monitor de vídeo do computador. Para se maximizar essa janela, é suficiente clicar .

Acerca de conceitos relacionados à Internet e à *World Wide Web*, julgue os itens que se seguem.

- 34 A estrutura do endereço de correio eletrônico joao@empresadojoao.com.br é compatível com a estrutura de um endereço de *e-mail* de uma instituição comercial do Brasil.
- 35 Técnicas criptográficas são, muitas vezes, utilizadas em diversas ferramentas que permitem a transmissão de arquivos tal que, caso estes sejam interceptados ou indevidamente recebidos por terceiros, torna-se muito difícil que os receptores consigam ter acesso, efetivamente, à informação contida nesses arquivos. A ciência da criptografia avançou tanto nas últimas duas décadas que nenhum código criptográfico desenvolvido nos últimos 20 anos foi quebrado.

Quatro amigos de infância — André, Bruno, Carlos e Davi — resolveram reunir-se novamente depois de muitos anos de separação. Todos têm profissões diferentes — advogado, arquiteto, engenheiro e médico —, moram em cidades diferentes — Brasília, Campinas, Goiânia e Vitória — e possuem diferentes passatempos — violão, xadrez, pintura e artesanato. Além disso, sabe-se que André mora em Goiânia, não é arquiteto e não joga xadrez como passatempo. Bruno tem por passatempo o violão, não mora em Brasília e é médico. Carlos não tem o artesanato como passatempo, é engenheiro e não mora em Campinas. Sabe-se que o passatempo do arquiteto é a pintura e que ele mora em Brasília.

Com base nessas informações, julgue os itens seguintes.

- 36 André é advogado.
- 37 Bruno mora em Vitória.
- 38 Carlos tem o xadrez por passatempo.
- 39 Davi é arquiteto.
- 40 O advogado mora em Goiânia.

Para formar-se um anagrama, permutam-se as letras de uma palavra, obtendo-se ou não uma outra palavra conhecida. Por exemplo, VROAL é um anagrama da palavra VALOR. Com base nessas informações, julgue os próximos itens, relacionados aos anagramas que podem ser obtidos a partir da palavra VALOR.

- 41 O número de anagramas distintos é inferior a 100.
- 42 O número de anagramas distintos que começam com VL é igual a 6.
- 43 O número de anagramas distintos que começam e terminam com vogal é superior a 15.
- 44 O número de anagramas distintos que começam com vogal e terminam com consoante é superior a 44.

RASCUNHO

A Justiça é perfeita.
 A lei foi feita pelo homem.
 Toda obra humana é imperfeita.
 Logo, a lei é injusta.

Com base nas assertivas que fazem parte do argumento apresentado acima, julgue os itens subseqüentes.

- 45 A “lei foi feita pelo homem” é uma premissa desse argumento.
- 46 A “lei é injusta” é a conclusão desse argumento.
- 47 Trata-se de exemplo de argumento válido.

| | | | |
|----|----|---|---|
| | 11 | 6 | 7 |
| 10 | | | 3 |
| 7 | 2 | | |
| 7 | | | |

As células de fundo cinza do quadro acima que ainda não possuem valor numérico devem ser preenchidas com algarismos de 1 a 5, de forma que a soma dos algarismos de cada linha deve ser igual ao algarismo indicado à sua esquerda, e a soma dos algarismos de cada coluna deve ser igual ao algarismo indicado em seu topo. Além disso, os algarismos não podem ser repetidos na mesma linha ou na mesma coluna. Com base nessas informações e no preenchimento do quadro acima, julgue os itens seguintes.

- 48 A coluna mostrada ao lado poderia corresponder a um preenchimento correto da coluna cujo algarismo indicado em seu topo é o 11.

| |
|---|
| 4 |
| 3 |
| 4 |

- 49 A coluna mostrada ao lado poderia corresponder a um preenchimento correto da coluna cujo algarismo indicado em seu topo é o 6.

| |
|---|
| 3 |
| 1 |
| 2 |

- 50 Após um preenchimento correto da tabela, é possível que a diagonal seja preenchida como mostra a figura ao lado.

| | | |
|---|---|---|
| | | 3 |
| | 1 | |
| 4 | | |

CONHECIMENTOS ESPECÍFICOS

Um município instituiu várias taxas a serem cobradas dos munícipes em razão das seguintes atividades: limpeza dos logradouros públicos, iluminação pública, segurança e prevenção de incêndios.

Considerando a situação hipotética acima, julgue os itens que se subseguem.

- 51 A taxa instituída para limpeza de logradouros públicos é inconstitucional, pois tal serviço é executado em benefício da população em geral, sem possibilidade de individualização de cada usuário.
- 52 A taxa de iluminação pública é um tributo legal, já que o seu fato gerador é um serviço específico e mensurável, que é também divisível.
- 53 É ilegal a cobrança da taxa de segurança pública em face da realização da atividade de preservação da ordem pública, incolumidade das pessoas e de seus patrimônios, típica atividade a ser sustentada pela cobrança de impostos.
- 54 Tem respaldo constitucional a cobrança da taxa de incêndio, desde que seja cobrada com vistas a se cobrirem despesas com manutenção dos serviços de prevenção e de extinção de incêndios prestados a cada cidadão.

Julgue os itens que se seguem, acerca das limitações existentes ao poder de tributar.

- 55 A criação de imunidade tributária é matéria que deve ser versada em lei, enquanto a criação de isenção deve ser tratada em sede constitucional.
- 56 Revogada a isenção, o tributo torna-se imediatamente exigível, não sendo o caso de aplicação do princípio da anterioridade, já que o tributo era preexistente.
- 57 A imunidade tributária recíproca entre os entes políticos diz respeito aos impostos, não alcançando as contribuições e as taxas.

João, servidor público municipal, motorista da prefeitura, atropelou Paulo, um colega de serviço, no pátio do prédio da secretaria municipal de saúde.

Tendo por base essa situação hipotética, julgue os itens seguintes.

- 58 João poderá responder tanto administrativamente quanto civilmente pelo fato, sendo possível, ainda, que, diante das circunstâncias concretas, venha a se vislumbrar uma responsabilidade criminal.
- 59 Se, em razão dos fatos, o município, acionado judicialmente por Paulo, for condenado, ele pode voltar-se contra João para que este pague os danos causados. A esse mecanismo se dá o nome de ação regressiva.
- 60 O município, no caso concreto, não é obrigado a responder legalmente pelos danos causados por João, pois a vítima é servidor público, o que descaracteriza a prescrição constitucional de que as pessoas jurídicas de direito público devem responder pelos danos que seus agentes causem a terceiros.

A fazenda pública estadual ajuizou ação de execução fiscal contra Pedro, cobrando o imposto sobre operações relativas à circulação de mercadorias e sobre prestações de serviços de transporte interestadual e intermunicipal e de comunicação (ICMS) em atraso e multa de mora no valor de 200% sobre o valor do tributo devido. No curso do processo, entrou em vigor nova lei que reduziu a multa para 100% sobre o valor do tributo devido.

Tendo como motivação inicial a situação apresentada, julgue os itens seguintes, acerca da legislação tributária.

- 61** Na situação em apreço, deverá ser aplicada a nova lei que entrou em vigor no curso do processo, pois comina penalidade menos severa.
- 62** Ao julgar a causa, o emprego da equidade não poderá resultar na dispensa do tributo devido por Pedro.
- 63** A certidão de dívida ativa somente poderá ser substituída antes de Pedro apresentar embargos à execução fiscal.

Acerca das normas atinentes à obrigação tributária, julgue os itens que se seguem.

- 64** Considere que o estado de Goiás do Sul tenha sido constituído pelo desmembramento territorial do estado de Goiás. Nesse caso, será aplicável, no estado de Goiás do Sul, a legislação tributária do estado de Goiás até que entre em vigor a legislação própria do novo estado.
- 65** Considere a seguinte situação hipotética.

Os irmãos Caio e Mário adquiriram um imóvel em condomínio, pagando, cada um, 50% do valor. Uma lei municipal concedeu isenção do pagamento do imposto sobre a propriedade predial e territorial urbana (IPTU) a pessoas portadoras de deficiências, beneficiando Mário, que é portador de deficiência física.

Nesse caso, os irmãos Caio e Mário estão desobrigados do pagamento do IPTU incidente sobre o imóvel adquirido em condomínio.

Cada um dos próximos itens apresenta uma situação hipotética acerca de crédito tributário, seguida de uma assertiva a ser julgada.

- 66** A empresa Bom Boi Comércio de Carnes Ltda. foi autuada pela fazenda pública em vista do não recolhimento de tributos estaduais. Em razão disso, os dirigentes dessa empresa contrataram advogado para ajuizar mandado de segurança preventivo visando obstar a cobrança do tributo que entendem ser indevido. Nessa situação, a concessão da medida liminar, no mandado de segurança, suspenderá a exigibilidade do crédito tributário.
- 67** Lúcia, visando esquivar-se do pagamento de tributo federal, gravou com cláusula de impenhorabilidade seu apartamento. Nessa situação, promovida a execução fiscal, o apartamento de Lúcia não poderá ser penhorado.

Acerca do imposto sobre serviços de qualquer natureza (ISS), cada um dos itens subseqüentes apresenta uma situação hipotética, seguida de uma assertiva a ser julgada.

- 68** A pessoa jurídica Trâmite Publicidade e Propaganda Ltda. contratou, sob o regime das Consolidações das Leis do Trabalho, dois empregados para prestarem serviços de panfletagem. Nessa situação, a referida pessoa jurídica está obrigada a recolher o ISS em razão dos serviços prestados pelos empregados contratados.
- 69** Gustavo, trabalhador autônomo, presta serviços de elaboração de programas de computadores no município de Vitória. Nessa situação, Gustavo deve recolher o ISS à alíquota de 5% sobre o valor dos serviços prestados.

Julgue os itens subseqüentes, relativos ao IPTU.

- 70** É isento do pagamento do IPTU o proprietário de imóvel edificado e localizado na zona urbana do município de Vitória cujo valor venal seja de cerca de R\$ 18.000,00.
- 71** Considere que a padaria Caravelas Ltda. funcione em imóvel não residencial cujo valor venal seja de R\$ 520.000,00. Nessa hipótese, o IPTU deve ser cobrado à alíquota de 0,4% sobre o valor venal do imóvel.

Considere que Júlio tenha adquirido de Renata uma casa no importe de R\$ 140.000,00. Tendo como referência inicial esse fato hipotético e acerca do imposto sobre transmissão *inter vivos*, a qualquer título, por ato oneroso, de bens imóveis, por natureza ou acessão física, e de direitos reais sobre imóveis, exceto os de garantia, bem como cessão de direitos a sua aquisição (ITBI), julgue os itens que se seguem.

- 72** Renata é a contribuinte do ITBI incidente sobre a alienação do imóvel.
- 73** O pagamento do ITBI poderá ser parcelado em, no máximo, dez parcelas mensais e sucessivas.

Acerca do processo administrativo tributário do município de Vitória, julgue os itens a seguir.

- 74** A lei assegura o gozo da imunidade tributária de impostos sobre o templo de determinada igreja católica independentemente de qualquer requerimento à fazenda pública municipal.
- 75** Se, no curso de processo administrativo tributário, for proferida decisão em primeira instância contrária a certo contribuinte, caberá recurso voluntário no prazo de três dias, contados da data da ciência da referida decisão.

Em determinada cidade nordestina, certa concessionária presta serviço público de esgoto. Contudo, o poder público local permite o uso de fossas nas residências, desde que atendam a requisitos preestabelecidos pelo município.

Tendo como referência inicial a situação hipotética apresentada, julgue os itens seguintes à luz das normas de direito financeiro.

76 Na hipótese, a remuneração do serviço público de esgoto dá-se por taxa.

77 A importância advinda da contraprestação pelos serviços de esgoto constitui receita pública originária.

Julgue o próximo item, acerca da dívida pública.

78 Considere que um prédio localizado no centro da cidade de São Paulo tenha sido alugado para nele funcionar uma repartição pública federal. Nesse caso, o pagamento dos alugueres, pela administração, constitui uma dívida pública.

Considere que o estado do Rio Grande do Norte tenha contraído empréstimo público no mercado financeiro interno para ser pago no mesmo exercício financeiro da contratação. Com base nessa situação hipotética, julgue os itens que se seguem, acerca do crédito público.

79 A dívida pública contraída pelo estado do Rio Grande do Norte é classificada como dívida fluante.

80 Os recursos auferidos em decorrência do empréstimo público integram, de forma permanente, o patrimônio do estado do Rio Grande do Norte.

Acerca dos contratos regidos pelo Código Civil, julgue os itens a seguir.

81 No contrato de transporte de pessoas, ainda que gratuito, a responsabilidade do transportador é objetiva, isto é, somente poderá ser elidida se o evento danoso decorrer de culpa da vítima, de fato fortuito externo ou, ainda, de fato exclusivo de terceiro. Assim, não restando provada a existência de qualquer dessas causas excludentes da responsabilidade, o transportador é obrigado a indenizar todos os danos que o passageiro venha a sofrer durante o seu trajeto.

82 Os contratos celebrados pela Internet ou por outro meio eletrônico são considerados contratos entre ausentes e as propostas são obrigatórias. Tais contratos são considerados perfeitos ou acabados a partir da expedição da proposta por um dos contratantes.

Julgue os seguintes itens, que versam acerca do direito das obrigações e dos negócios jurídicos.

83 A simulação é um acordo das partes contratantes para criar um negócio jurídico aparente, cujos efeitos não são desejados pelas partes, ou para ocultar, sob determinada aparência, o negócio desejado, o que acarreta a nulidade do negócio. O propósito do negócio aparente é o de enganar terceiros ou fugir ao imperativo da lei.

84 O negócio jurídico de execução continuada celebrado por uma pessoa que se encontra sob premente necessidade, capaz de afetar a sua manifestação de vontade, pode ser anulado, se um dos contratantes provar que a prestação assumida na data do término do pagamento se tornou excessivamente onerosa.

85 Sendo vários os credores de obrigação indivisível, o devedor se desobriga pagando a todos os credores conjuntamente ou a um só, desde que autorizado pelos outros. Essa obrigação não se extingue pela remissão feita por um deles, só podendo os demais credores exigir-la se descontada a cota do credor remitente.

A respeito das normas de execução dos trabalhos de auditoria, julgue o item a seguir.

86 Considere que, na execução de procedimentos específicos de auditoria, tenha sido verificado que o nível de risco é maior que o previsto na fase de planejamento. Nesse caso, o nível de relevância preliminarmente estabelecido deve ser reduzido.

Com relação à continuidade normal dos negócios de uma entidade, julgue o item que se segue.

87 Indicações de que uma empresa apresenta risco de descontinuidade podem ser encontradas em suas demonstrações contábeis. Um exemplo disso se traduz pela mudança nas relações com os fornecedores, substituindo-se pagamentos a vista por compras a crédito.

A propósito das contingências, julgue o item seguinte.

88 Segundo o entendimento da CVM, as contingências ativas não devem ser reconhecidas, exceto quando a realização do ganho é praticamente certa. A divulgação do fato se dará quando for provável a entrada de recursos.

Julgue o item subsequente, a respeito do tipo de parecer do auditor.

89 Considere que um auditor tenha sido contratado para examinar as demonstrações financeiras da sociedade controladora de um grupo. As demonstrações das controladas já haviam sido examinadas por outros auditores. Nesse caso, o auditor contratado deverá emitir parecer com negativa de opinião ou, pelo menos, com ressalva, dada a limitação no escopo do exame.

Várias são as hipóteses que caracterizam omissão de receitas. Com base nos procedimentos usuais e nas circunstâncias, julgue o item abaixo.

90 Os suprimentos de caixa podem ser justificados pela comprovação da capacidade financeira do supridor e da efetiva entrega dos recursos. Só ficará caracterizada irregularidade quando se constatar a existência de saldo credor na conta caixa.

Acerca da auditoria das contas de resultado, julgue o item a seguir.

91 Considere que uma empresa tenha registrado e embarcado, em 31/12, último dia do exercício social, mercadoria vendida pelo valor de R\$ 50.000,00, com cláusula CIF e previsão de entrega para três dias depois. Considere também que o CMV correspondente, também registrado em 31/12, tenha sido de R\$ 30.000,00. Nessa situação, é correto inferir-se que a empresa acresceu indevidamente ao resultado do exercício findo o lucro de R\$ 20.000,00.

Com fulcro na doutrina contábil e na legislação societária, julgue os itens que se subseguem.

92 No que se refere às companhias abertas, são consideradas em circulação todas as ações em poder dos acionistas majoritários e minoritários, que exerçam ou não funções de direção. Excluem-se dessa situação as ações em tesouraria.

93 A provisão para redução a valor presente de valores a receber, embora não prevista, atualmente, na legislação brasileira, é preconizada pela doutrina contábil e consiste no desconto dos juros embutidos nos montantes esperados de recebimento futuro.

Julgue o item seguinte, acerca de classificação das contas.

94 A conta ISS a recolher, que integra o passivo circulante no plano de contas de uma empresa de prestação de serviços contribuinte do ISS sobre essas receitas, constitui a contrapartida da despesa com o ISS contabilizada como dedução da receita bruta.

Com relação à constituição de reservas das companhias, julgue o próximo item.

95 Considere que, após a apuração do resultado do exercício e antes da constituição das reservas, o patrimônio líquido de uma companhia fosse composto como a seguir.

| | |
|---------------------------------|------------------|
| capital social | R\$ 5.000.000,00 |
| reserva legal | R\$ 1.000.000,00 |
| outras reservas de lucros | R\$ 500.000,00 |

Nessa situação, e sabendo-se que o lucro líquido do exercício foi de R\$ 2.000.000,00, é correto concluir que a empresa poderá destinar R\$ 100.000,00 à reserva legal.

Com relação aos valores classificáveis em resultados de exercícios futuros, julgue o item abaixo.

96 Os valores constantes de resultados de exercícios futuros, por corresponderem a um lucro bruto em potencial, devem ser representados líquidos de todos os custos, entre os quais a provisão para imposto de renda.

A propósito da apuração dos resultados contábeis, julgue os itens subseqüentes.

97 O lucro ou prejuízo apurado com a venda de participações societárias classificadas no ativo circulante constitui ganho ou perda de capital e integra o resultado não-operacional, na demonstração do resultado do exercício.

98 Considere que os saldos (em R\$ 1,00) de algumas contas de determinada empresa, ao final do período, sejam os apresentados abaixo.

| | |
|--------------------------------------|---------|
| vendas | 450.000 |
| compras | 280.000 |
| ICMS s/ vendas | 45.000 |
| ICMS a recuperar. | 25.000 |
| abatimento s/ compras | 10.000 |
| comissões s/ vendas | 18.000 |
| devoluções de compras | 15.000 |
| descontos comerciais s/ vendas | 20.000 |
| estoque final | 60.000 |

Com base nos dados apresentados, é correto concluir que o lucro operacional bruto dessa empresa foi de R\$ 197.000,00.

Com base nos conceitos e critérios adotados em relação às demonstrações das origens e das aplicações de recursos e do fluxo de caixa, julgue os itens que se seguem.

99 Considere que uma dívida de ISS, vencida e registrada, foi renegociada com um município, mediante parcelamento de 5 anos. Nessa situação, é correto inferir que, à data do balanço, as parcelas vincendas após o encerramento do exercício subsequente, transferidas para o passivo exigível a longo prazo, propiciaram um aumento do capital circulante líquido da empresa devedora.

100 Considere que os dados disponíveis para a elaboração do fluxo de caixa do exercício de uma empresa apresente a situação a seguir.

saldo inicial de mercadorias R\$ 210.000,00

saldo final de mercadorias R\$ 280.000,00

saldo inicial de fornecedores R\$ 190.000,00

saldo final de fornecedores R\$ 170.000,00

Nessa situação, e sabendo que o custo das mercadorias vendidas foi de R\$ 1.350.000,00, é correto concluir que os pagamentos a fornecedores corresponderam a R\$ 1.440.000,00.

A propósito da atividade financeira do Estado, julgue o item abaixo.

101 A escala financeira necessária e suficiente para assegurar a prestação de serviços de âmbito local, que é um grande desafio para a maioria dos municípios brasileiros, não deve aplicar-se aos serviços autofinanciáveis, como, por exemplo, coleta de lixo.

Com relação às receitas públicas em geral e aos seus diversos tipos, julgue os próximos itens.

102 O ISS é classificado como receita corrente e derivada. Não obstante tratar-se de um imposto, parte de seu montante tem destinação específica, conforme definido na Constituição Federal.

103 A Emenda Constitucional n.º 39/2002, visando dirimir dúvidas e evitar questionamentos, instituiu a taxa de iluminação pública, que os municípios poderão cobrar de seus moradores. Segundo a doutrina das finanças públicas, aplica-se ao fornecimento desse serviço o princípio da exclusão.

Julgue o item a seguir, acerca da partilha de recursos tributários aos municípios.

104 Considere que um estado tenha arrecadado, no período, R\$ 150 milhões de ICMS. Nessa situação, os seus municípios farão jus a, no máximo, R\$ 28.125.000,00, na proporção dos respectivos valores adicionados de suas operações, e a, no mínimo, R\$ 9.375.000,00, de acordo com a legislação estadual.

A respeito das renúncias de receita, nos termos da Lei de Responsabilidade Fiscal, julgue o item subsequente.

105 Considere que, em determinado município, se pretenda conceder isenção do IPTU à expansão de certas atividades. Nessa situação, em coerência com a Lei de Responsabilidade Fiscal, é correto inferir que a exploração de áreas antes ociosas viabilizará o surgimento de outros empreendimentos, com o aumento do número de contribuintes e dos imóveis sujeitos à incidência de tal tributo.

Julgue os itens subseqüentes, acerca das partes geral e especial do Código Penal e de seus princípios constitucionais.

- 106** O princípio da intranscendência ou responsabilidade pessoal figura na Constituição Federal, que dispõe que nenhuma pena passará da pessoa do condenado, podendo a obrigação de reparar o dano e a decretação de perdimento de bens ser, nos termos da lei, estendidos aos sucessores e contra eles executados, até o limite do valor do patrimônio transferido.
- 107** A emoção e a paixão excluem a responsabilidade penal quando o agente, devido a elas, tiver o seu entendimento diminuído em relação ao caráter delituoso do fato.
- 108** Considere a seguinte situação hipotética.
- Patrícia, com 23 anos de idade, foi processada criminalmente após a prática de uma infração penal. Todavia, no curso do processo, verificou-se que, ao tempo do crime, por doença mental, a ré era inteiramente incapaz de entender o caráter ilícito do fato.
- Nessa situação, cabe a absolvição de Patrícia, tendo como fundamento a inexistência de ilicitude da conduta delituosa.
- 109** No que concerne à aplicação da lei penal no tempo, é correto afirmar que o costume representado pela reiterada tolerância da sociedade e até pelo poder público a determinadas situações é causa excludente da ilicitude da conduta, podendo o direito consuetudinário revogar, tacitamente, a lei penal.
- 110** Suponha que um funcionário público, detentor de competência para determinado ato de ofício, solicite vantagem indevida a um particular para a prática do ato, vindo a receber deste vantagem de natureza patrimonial. Nessa situação, o funcionário deve responder por corrupção passiva, enquanto a conduta do particular é considerada atípica.

Julgue os itens seguintes, relacionados a matemática financeira.

- 111** O valor dos juros produzidos por um capital aplicado durante quatro anos à taxa anual de juros simples de 12,5% corresponde a 50% do capital inicial.
- 112** Considere a seguinte situação hipotética.
- Paulo trocou um título de valor nominal de R\$ 8.000,00 que vence ao final de 1 ano por outro de valor nominal de R\$ 6.222,00 que vence ao final de 5 meses.
- Nessa situação, considerando a taxa corrente de juros compostos igual a 4% ao mês e supondo que $1,04^{12} = 1,60$ e que $1,04^5 = 1,22$, é correto concluir que a troca foi favorável a Paulo.
- 113** Considere que uma pessoa pretenda quitar, 4 meses antes do vencimento, um título de valor nominal de R\$ 7.800,00. Nesse caso, se for usado o desconto racional simples à taxa de 60% ao ano, a pessoa deve pagar menos de R\$ 6.300,00.
- 114** Considere-se que a taxa de juros compostos de 3% ao mês seja equivalente à taxa de juros compostos de 43% ao ano. A partir desse fato, é correto concluir que $\sqrt[12]{1,43} - 1 = 0,03$.
- 115** Considere que um empréstimo no valor de R\$ 150.000,00 deva ser quitado pelo sistema francês de amortização em 12 prestações anuais, com a primeira vencendo em um ano após a tomada do empréstimo, à taxa de juros compostos de 8% ao ano. Nesse caso, supondo-se que $1,08^{-12} = 0,4$, o valor da primeira prestação será inferior a R\$ 19.000,00.

Dados acerca de 400 indústrias de pequeno porte foram coletados em um levantamento amostral. Essas indústrias foram selecionadas por amostragem aleatória simples de um rol de 5 mil indústrias. Entre os dados coletados, estavam o número de empregados (E) e o faturamento bruto anual (F), em milhares de reais. A pesquisa mostrou, entre outros, os seguintes resultados.

- I Na ocasião da pesquisa, foram observados, em média, 50 empregados por indústria e o faturamento bruto anual médio foi de R\$ 800 mil/indústria.
- II Os desvios-padrão amostrais de E e F foram iguais, respectivamente, a 20 empregados e R\$ 100 mil.
- III A correlação linear entre E e F foi positiva.

Com relação à situação hipotética descrita acima e com base nas informações apresentadas, julgue os itens a seguir.

- 116 A associação entre E e F pode ser corretamente representada por um modelo de regressão linear simples na forma $F = a + bE$, em que $a = 50$ e $b = 15$.
- 117 A estimativa do erro-padrão da média aritmética dos números de empregados observados na amostra é inferior a 1.
- 118 Para se estimar o número de empregados e o faturamento bruto anual com 95% de confiança, a margem de erro correspondente deve ser de 5%.
- 119 Caso uma nova amostra aleatória simples de tamanho 400 seja extraída desse mesmo rol de indústrias, a probabilidade de ela contemplar exatamente as mesmas indústrias da amostragem anterior é igual a $\frac{1}{5.000}$.
- 120 Caso F siga uma distribuição exponencial, então o coeficiente de variação de F será igual a 1.

RASCUNHO