

GEOGRAFIA

16ª QUESTÃO

Com a criação de zonas econômicas especiais, nos últimos anos, este país asiático em transição econômica, do socialismo para o capitalismo, tem adotado uma política de abertura da economia e de atração de investimentos estrangeiros, surgindo como uma potência econômica emergente.

O texto refere-se ao(à)

- (A) Índia.
- (B) Japão.
- (C) Coreia do Sul.
- (D) Cingapura.
- (E) China.

17ª QUESTÃO

A relação abaixo apresenta diferentes sistemas de exploração da Terra, numerados de I a V.

- I** - Belts
- II** - Comunas populares
- III** - Kolkhozes e sovkhozes
- IV** - Kibutz
- V** - Agricultura intensiva com rotação de culturas.

Assinale a alternativa que associa corretamente esses sistemas com os países em que são, ou eram, praticados.

- (A) EUA – Israel – Ex-URSS – Cuba – França.
- (B) EUA – Israel – Ex-URSS – China – Brasil.
- (C) EUA – China – Ex-URSS – Israel – França.
- (D) Ex-URSS – China – Israel – EUA – França.
- (E) França – China – Ex-URSS – Israel – Brasil.

18ª QUESTÃO

A Argentina é formada pelas 5 (cinco) regiões assinaladas no mapa abaixo, que se distinguem pelas características físicas, econômicas e humanas. Como exemplos, na Mesopotâmia existem importantes plantações de arroz, na Patagônia e no Chaco temos uma pequena densidade populacional.

Os números de 1 a 5 representam, respectivamente, as regiões do(a)



- (A) Chaco, Mesopotâmia, Pampa, Andes e Patagônia.
- (B) Mesopotâmia, Chaco, Pampa, Andes e Patagônia.
- (C) Pampa, Mesopotâmia, Chaco, Patagônia e Andes.
- (D) Mesopotâmia, Chaco, Pampa, Patagônia e Andes.
- (E) Pampa, Chaco, Mesopotâmia, Andes e Patagônia.

19ª QUESTÃO

Seu território é integrado por um conjunto de ilhas, despontando como o maior produtor de petróleo do sudeste da Ásia. A sua população, predominantemente muçulmana, está entre as maiores do mundo.

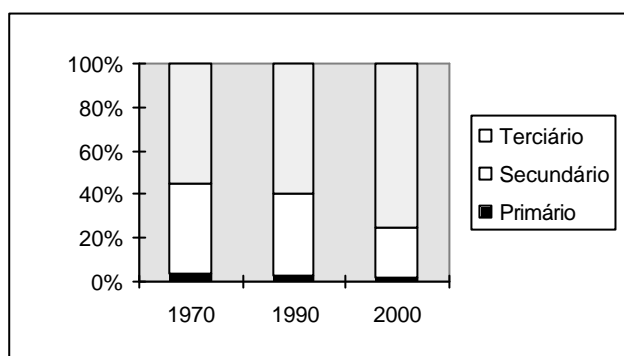
O texto acima refere-se ao(à)

- (A) Coreia do Sul.
- (B) Vietnã.
- (C) Indonésia.
- (D) Austrália.

(E) Tailândia.

20ª QUESTÃO

As sete maiores economias capitalistas do mundo constituem um grupo de países desenvolvidos, pós-industriais, com características semelhantes, denominado Grupo dos Sete (G7). O gráfico abaixo representa a composição do PIB nesses países.



Sobre o comportamento dos setores da economia nesses países, pode-se afirmar que

- (A) os setores primário e secundário deixaram de ter importância em suas economias.
- (B) apesar da diminuição da importância do setor primário, a economia desses países permanece baseada na circulação de matéria-prima.
- (C) o processo de terciarização está em rápida expansão nos países desenvolvidos pós-industriais, ou seja, naqueles onde a informatização e a automação estão em curso.
- (D) o grande crescimento do setor terciário, observado no gráfico acima, representa o aumento do subemprego, especialmente no campo do turismo e do lazer.
- (E) o número cada vez menor de trabalhadores no setor secundário é capaz de produzir uma quantidade crescente de mercadorias, gerando, assim, cada vez mais empregos na atividade industrial.

21ª QUESTÃO

“O fenômeno El Niño - o aquecimento das águas superficiais do leste do Oceano Pacífico - e suas conseqüências climáticas entraram para a galeria do último verão.

Chova ou faça sol, esse fenômeno climático é sempre responsabilizado por todos os nossos infortúnios com o tempo. Mas, do que realmente o El Niño é culpado?”

(**Jornal “Folha de S. Paulo” - 26/04/98**).

O texto acima refere-se a um dos mais discutidos fenômenos climáticos da atualidade.

Com base nos seus conhecimentos a respeito de clima, assinale a alternativa correta.

- (A) O efeito estufa, causado pelo El Niño, é responsável pelas recentes mudanças climáticas.
- (B) Durante a ocorrência do fenômeno El Niño, massas de ar aquecidas inibem o acesso de frentes frias úmidas ao interior da América do Sul.
- (C) O buraco na camada de ozônio, conseqüência do fenômeno El Niño, é o principal responsável pelos “ *nossos infortúnios com o tempo*”.
- (D) O efeito El Niño caracteriza-se pela formação de uma massa de ar quente e seca, de alta pressão sobre o Oceano Pacífico.
- (E) A seca deste ano no Nordeste Brasileiro não tem nenhuma relação com o efeito El Niño.

22ª QUESTÃO

A França é um país desenvolvido que apresenta uma forte indústria metalúrgica, mecânica e uma importante e tradicional produção agropecuária. Como mais uma característica deste país pode-se citar o(a)

- (A) maior percentual urbano da Europa Ocidental.
- (B) crescimento populacional negativo.
- (C) produção insuficiente de petróleo.

(D) concentração industrial apenas no sul do país.

(E) presença de clima semi-árido e de montanha no norte e no sul do país respectivamente.

23ª QUESTÃO

O mapa abaixo representa as principais zonas agropecuárias dos Estados Unidos.

Os cinturões especializados na pecuária de corte, na produção de algodão e na produção de trigo estão representados , respectivamente, pelas letras

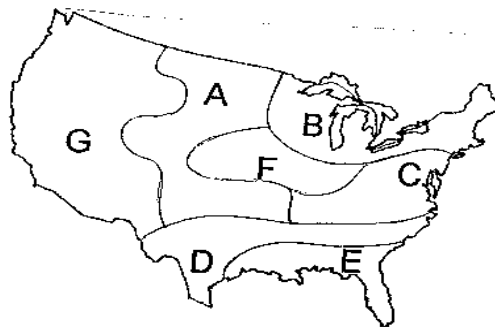
(A) E, C e B.

(B) C, B e G.

(C) G, E e B;.

(D) G, D e A;.

(E) B, G e A.



24ª QUESTÃO

Terremotos são fenômenos naturais que causam sérios transtornos à vida na Terra. O homem estuda-os há muito tempo, não conseguindo ainda prevêê-los com confiabilidade, e muito menos controlá-los. A Ciência já chegou a algumas conclusões, como, por exemplo, a de que os terremotos mais violentos são decorrentes de

(A) desmoronamentos internos da crosta Terrestre.

- (B) tectonismos.
- (C) vulcanismos.
- (D) epicentrismos.
- (E) acomodações sedimentares.

25ª QUESTÃO

No mapa abaixo, as linhas tracejadas representam o contorno das placas tectônicas, que se movimentam lentamente, provocando alterações na crosta terrestre.

Como resultado deste fenômeno temos:

- 1 - Uma cordilheira oceânica em expansão, resultado da separação de duas placas.

2 - Uma cadeia montanhosa formada em decorrência do mergulho de uma placa oceânica sob uma placa continental.

3 - Uma cadeia de altas montanhas, onde se situam os pontos mais elevados do Planeta, resultado do encontro de duas placas tectônicas.

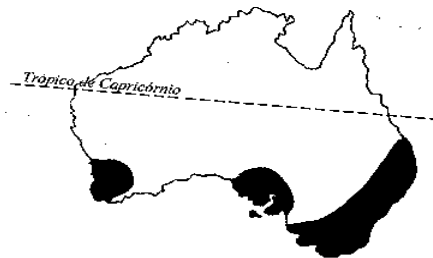
Os acidentes geográficos descritos nos itens 1, 2, e 3 acima podem ser identificados no mapa, respectivamente, pelas letras

- (A) A, E e F.
- (B) C, H e F.
- (C) D, B e H.
- (D) D, C e G.
- (E) A, C e B.

26ª QUESTÃO

No mapa abaixo, referente à Austrália, as partes sombreadas representam as regiões

- (A) industriais.
- (B) de savanas.
- (C) de plantação de cana-de-açúcar.
- (D) de clima equatorial.
- (E) de deserto.



27ª QUESTÃO

Ao observar a natureza em muitas regiões da Terra, pode-se perceber que as folhas das árvores caem em determinada época do ano, caracterizando o outono. Percebe-se também que os dias são mais longos no verão, o que pode levar à adoção de um horário específico, como o “horário brasileiro de verão”. A ocorrência desses fenômenos naturais deve-se ao(s)

- (A) movimento de rotação da Terra.
- (B) traçado dos paralelos terrestres.
- (C) meridianos terrestres.

(D) movimento de revolução da Terra.

(E) movimento de translação da Terra.

28ª QUESTÃO

O ângulo de incidência dos raios solares sobre a superfície terrestre é um fator determinante da quantidade de energia solar absorvida pela Terra, afetando a temperatura de regiões do globo e, por consequência, o clima e a vida no Planeta. Assim, no dia do solstício de verão no Hemisfério Sul, os raios solares estarão incidindo perpendicularmente à superfície terrestre nas proximidades da linha imaginária do

(A) Equador.

(B) trópico de Câncer.

(C) paralelo de 45° sul.

(D) trópico de Capricórnio.

(E) meridiano de Greenwich.

29ª QUESTÃO

O crescimento populacional nas diversas regiões do mundo obedece basicamente a fases. Uma dessas fases, mais conhecida como “2a. fase do ciclo demográfico”, caracteriza-se por um elevado crescimento demográfico, provocando, em algumas regiões subdesenvolvidas, a chamada “EXPLOÇÃO DEMOGRÁFICA”. Essa fase de grande crescimento demográfico normalmente é causada pelo (a)

(A) redução significativa da taxa de mortalidade.

(B) aumento expressivo da natalidade.

(C) imigração.

(D) conjugação de alta mortalidade com alta natalidade.

(E) emigração.

30ª QUESTÃO

A ordem econômica mundial tem passado por importantes transformações nos últimos anos e uma das características importantes desta nova ordem é a formação de blocos econômicos regionais de grande importância para a economia mundial. Sobre os blocos econômicos é correto dizer que

- (A) na Ásia, a China lidera um bloco com regras muito rígidas que congrega os principais países do Pacífico.
- (B) a ALADI é um bloco que reúne todos os países da América e vem sendo substituído pela ALCA.
- (C) o NAFTA é um bloco econômico que reúne somente países da América Anglo-Saxônica.
- (D) a APEC reúne somente os países da América do Norte.
- (E) a União Européia, megabloco econômico melhor estruturado, decorre de um processo de unificação originado no MCE (Mercado Comum Europeu) e CEE (Comunidade Econômica Européia).