

## ANALISTA DE SISTEMAS

### SUORTE A BANCO DE DADOS (ADABAS)

# ADB5

#### INSTRUÇÕES GERAIS

- Você recebeu do fiscal:
  - Um *caderno de questões* contendo 70 (setenta) questões objetivas de múltipla escolha e 03 (três) questões discursivas;
  - Um *cartão de respostas* personalizado para a Prova Objetiva;
  - Um *caderno de respostas* personalizado para a Prova Discursiva.
- **É responsabilidade do candidato certificar-se de que o nome e código do perfil profissional informado nesta capa de prova corresponde ao nome e código do perfil profissional informado em seu *cartão de respostas*.**
- Ao ser autorizado o início da prova, verifique, no *caderno de questões* se a numeração das questões e a paginação estão corretas.
- Você dispõe de 5 (cinco) horas para fazer a Prova Objetiva e a Prova Discursiva. Faça-as com tranquilidade, mas **controle o seu tempo**. Este **tempo** inclui a marcação do *cartão de respostas* e o desenvolvimento das respostas da Prova Discursiva.
- **Não** será permitido ao candidato copiar seus assinalamentos feitos no *cartão de respostas* ou no *caderno de respostas*.
- Após o início da prova, será efetuada a coleta da impressão digital de cada candidato (Edital 01/2007 – Item 9.9 alínea a).
- Somente após decorrida uma hora do início das provas, o candidato poderá entregar o seu *caderno de questões* e o seu *cartão de respostas* e seu *caderno de respostas* e retirar-se da sala de prova (Edital 01/2007 – Item 9.9 alínea c).
- Somente será permitido levar o seu *caderno de questões* faltando 20 (vinte) minutos para o término do horário estabelecido para o fim da prova, desde que permaneça em sala até este momento (Edital 01/2007 – Item 9.9 alínea d).
- Após o término de sua prova, entregue obrigatoriamente ao fiscal o *cartão de respostas* da Prova Objetiva devidamente **assinado** e o *caderno de respostas* devidamente desidentificado.
- Os 3 (três) últimos candidatos de cada sala só poderão ser liberados juntos.
- Se você precisar de algum esclarecimento, solicite a presença do **responsável pelo local**.

#### INSTRUÇÕES - PROVA OBJETIVA

- Verifique se os seus dados estão corretos no *cartão de respostas*. Solicite ao fiscal para efetuar as correções na Ata de Aplicação de Prova.
- Leia atentamente cada questão e assinale no *cartão de respostas* a alternativa que mais adequadamente a responde.
- O *cartão de respostas* **NÃO** pode ser dobrado, amassado, rasurado, manchado ou conter qualquer registro fora dos locais destinados às respostas.
- A maneira correta de assinalar a alternativa no *cartão de respostas* é cobrindo, fortemente, com caneta esferográfica azul ou preta, o espaço a ela correspondente, conforme o exemplo a seguir:



#### INSTRUÇÕES - PROVA DISCURSIVA

- Verifique se os seus dados estão corretos no *caderno de respostas*. Solicite ao fiscal para efetuar as correções na Ata de Aplicação de Prova.
- Efetue a desidentificação do *caderno de respostas* destacando a parte onde estão contidos os seus dados.
- Somente será objeto de correção da Prova Discursiva o que estiver contido na **área reservada para a resposta**.
- O *caderno de respostas* **NÃO** pode ser dobrado, amassado, manchado, rasgado ou conter qualquer forma de **identificação do candidato**.
- **Use somente** caneta esferográfica azul ou preta.

#### CRONOGRAMA PREVISTO

ATIVIDADE	DATA	LOCAL
Divulgação do gabarito - Prova Objetiva (PO)	24/09/2007	www.nce.ufrj.br/concursos
Interposição de recursos contra o gabarito (RG) da PO	25 e 26/09/2007	www.nce.ufrj.br/concursos fax: (21) 2598-3300
Divulgação do resultado do julgamento dos recursos contra os RG da PO e o resultado final das PO	10/10/2007	www.nce.ufrj.br/concursos

**Demais atividades consultar Manual do Candidato ou pelo endereço eletrônico [www.nce.ufrj.br/concursos](http://www.nce.ufrj.br/concursos)**



## LÍNGUA PORTUGUESA

### TEXTO – COM QUE CORPO EU VOU?

Maria Rita Kehl, *Folha de São Paulo*, 30/06/2002

O cuidado de si volta-se para a produção da aparência, segundo a crença já muito difundida de que a qualidade do invólucro muscular, a textura da pele e a cor dos cabelos revelam o grau de sucesso de seus “proprietários”. Numa praia carioca, escreve Stéphane Malysse, as pessoas parecem “cobertas por um sobrecorpo, como uma vestimenta muscular usada sob a pele fina e esticada...”

São corpos em permanente produtividade, que trabalham a forma física ao mesmo tempo em que exibem os resultados entre os passantes. São corpos-mensagem, que falam pelos sujeitos. O rapaz “sarado”, a loira siliconada, a perna musculosa ostentam seus corpos como se fossem aqueles cartazes que os homens sanduíches carregam nas ruas do centro da cidade. “Compra-se ouro”. “Vendem-se cartões telefônicos”. “Belo espécime humano em exposição”.

A cultura do corpo não é a cultura da saúde, como quer parecer... É a produção de um sistema fechado, tóxico, claustrofóbico. Nesse caldo de cultura insalubre, desenvolvem-se os sistemas sociais da drogadição (incluindo o abuso de hormônios e anabolizantes), da violência e da depressão. Sinais claros de que a vida, fechada diante do espelho, fica perigosamente vazia e sem sentido.

01 – Pode-se dizer sobre o título dado ao texto que:

- (A) representa um protesto contra a cultura inútil do corpo;
- (B) numa alusão intertextual, faz a correspondência entre corpo e roupa;
- (C) indica uma posição moderna de ultravalorização do corpo;
- (D) mostra a futilidade de parte da sociedade moderna;
- (E) demonstra que o corpo passa a valer mais do que as qualidades morais.

02 – O texto, em muitas passagens, “coisifica” o ser humano, inclusive pela linguagem empregada. A palavra ou expressão do primeiro parágrafo que NÃO colabora para essa “coisificação” humana é:

- (A) aparência;
- (B) invólucro muscular;
- (C) seus “proprietários”;
- (D) sobrecorpo;
- (E) vestimenta muscular.

03 – A alternativa em que a expressão sublinhada NÃO foi substituída de forma adequada por um termo equivalente é:

- (A) a textura da pele = dérmica;
- (B) cor dos cabelos = capilar;
- (C) caldo de cultura = culto;
- (D) centro da cidade = urbano;
- (E) a cultura do corpo = corporal.

04 – A alternativa em que os termos ligados pela conjunção E são termos equivalentes semanticamente é:

- (A) “a textura da pele e a cor dos cabelos”;
- (B) “sob a pele fina e esticada”;
- (C) “abuso de hormônios e anabolizantes”;
- (D) “da violência e da depressão”;
- (E) fica perigosamente vazia e sem sentido”.

05 – Muitos termos do texto aparecem entre aspas; assinale a correspondência correta entre emprego das aspas e a justificativa do seu emprego, segundo informações de gramáticas de língua portuguesa:

- (A) as aspas abrem e fecham citações: “sarados”;
- (B) as aspas indicam que as palavras estão tomadas materialmente, sem função na frase: “proprietários”;
- (C) as aspas marcam palavras de outro texto, transferidas para o texto presente: “Compra-se ouro”;
- (D) as aspas assinalam a presença de uma palavra fora de seu sentido habitual: “Belo espécime humano em exposição”;
- (E) as aspas mostram um termo de linguagem coloquial: “Vendem-se cartões telefônicos”.

06 – “as pessoas parecem cobertas por um sobrecorpo, como uma vestimenta muscular usada sob a pele fina e esticada...”; o que se destaca como característica principal das pessoas citadas nesse segmento do texto é:

- (A) personalidade exibicionista;
- (B) beleza física;
- (C) preocupação com a saúde;
- (D) temperamento detalhista;
- (E) elegância discreta.

07 – “Compra-se ouro” / “Vendem-se cartões telefônicos”; nesses dois cartazes, o autor do texto mostra cuidado com a norma culta da língua. O cartaz abaixo em que esse mesmo cuidado NÃO se verifica é:

- (A) Alugam-se quartos para rapazes solteiros;
- (B) Precisam-se de ajudantes para serviços domésticos;
- (C) Contratam-se serventes de pedreiros;
- (D) Consertam-se roupas;
- (E) Empréstam-se livros para estudantes pobres.

08 – A loira siliconada, citada no texto, serve de exemplo de:

- (A) corpos em permanente produtividade;
- (B) cultura da saúde;
- (C) sintoma social da drogadição;
- (D) violência e depressão;
- (E) despreocupação com a aparência.

09 – Vocábulos que NÃO são acentuados em razão da mesma regra ortográfica são:

- (A) aparência / proprietários;
- (B) já / é;
- (C) invólucro / física;
- (D) sanduíches / tóxico;
- (E) telefônicos / claustrofóbicos.

10 – O texto lido apresenta um conjunto de posicionamentos; o item que mostra um posicionamento que NÃO corresponde a uma opinião do autor é:

- (A) a cultura do corpo é algo diferente da cultura da saúde;
- (B) o corpo humano deve ter alguém como recheio;
- (C) a cultura excessiva do corpo fecha o sujeito em si mesmo;
- (D) a dedicação exclusiva ao corpo é parte de um caldo cultural nocivo;
- (E) os corpos sarados escondem seus verdadeiros “proprietários”.

11 – O vocábulo do último parágrafo do texto que tem seu significado corretamente indicado é:

- (A) tóxico = depressivo;
- (B) claustrofóbico = psicopatológico;
- (C) insalubre = saudável;
- (D) sintomas = conseqüências;
- (E) drogadição = sedução.

12 – O texto deve ser predominantemente classificado como:

- (A) um alerta contra as drogas;
- (B) uma crítica à supervalorização da aparência;
- (C) um protesto contra exercícios físicos;
- (D) um elogio aos cuidados com a saúde;
- (E) uma informação sobre fatos desconhecidos e perigosos.

13 – Os argumentos apresentados pelo autor do texto são predominantemente:

- (A) depoimentos de autoridades no assunto tratado;
- (B) exemplos retirados de experiência profissional;
- (C) pesquisas realizadas na área do combate às drogas;
- (D) opiniões de caráter pessoal;
- (E) de base estatística.

14 – Nos itens abaixo há uma junção de substantivo + adjetivo; o item em que o adjetivo mostra uma opinião do autor do texto é:

- (A) invólucro muscular;
- (B) praia carioca;
- (C) pele fina;
- (D) loira siliconada;
- (E) sistema tóxico.

15 – “desenvolvem-se os sintomas sociais da drogadição”; a forma verbal desse segmento do texto pode ser substituída adequadamente por:

- (A) serão desenvolvidos;
- (B) sejam desenvolvidos;
- (C) são desenvolvidos;
- (D) eram desenvolvidos;
- (E) foram desenvolvidos.

## LÍNGUA INGLESA

READ TEXT I AND ANSWER QUESTIONS 16 TO 20:

### TEXT I

#### Africa's Oil

The world is looking to West Africa for its next big energy bet. But oil can be a curse as much as a blessing. This time, which will it be?

(TIME, June 11, 2007)

16 – This text is about oil that Africa may:

- (A) import;
- (B) burn;
- (C) have;
- (D) control;
- (E) donate.

17 – The final sentence introduces a:

- (A) certainty;
- (B) solution;
- (C) warning;
- (D) surprise;
- (E) doubt.

18 – **next** in “its next big energy bet” indicates:

- (A) space;
- (B) time;
- (C) size;
- (D) length;
- (E) weight.

19 – The underlined word in “oil can be a curse” implies:

- (A) permission;
- (B) prohibition;
- (C) consent;
- (D) certainty;
- (E) possibility.

20 – **as much as** in “a curse as much as a blessing” signals a:

- (A) contrast;
- (B) conclusion;
- (C) condition;
- (D) comparison;
- (E) consequence.

**READ TEXT II AND ANSWER QUESTIONS 21 TO 30:**

**TEXT II**

**RECYCLE CITY: The Road to Curitiba**  
By ARTHUR LUBOW

On Saturday mornings, children gather to paint and draw in the main downtown shopping street of Curitiba, in southern Brazil. More than just a charming tradition, the child's play commemorates a key victory in a hard-fought, ongoing war. Back in 1972, the new mayor of the city, an architect and urban planner named Jaime Lerner, ordered a lightning transformation of six blocks of the street into a pedestrian zone. The change was recommended in a master plan for the city that was approved six years earlier, but fierce objections from the downtown merchants blocked its implementation. Lerner instructed his secretary of public works to institute the change quickly and asked how long it would take. "He said he needed four months," Lerner recalled recently. "I said, 'Forty-eight hours.' He said, 'You're crazy.' I said, 'Yes, I'm crazy, but do it in 48 hours.' "

(from [http:// www.nytimes.com](http://www.nytimes.com) on July 19<sup>th</sup>, 2007)

21 – The plan described was to create a:

- (A) parking lot;
- (B) traffic-free area;
- (C) shopping mall;
- (D) protected playground;
- (E) bus terminal.

22 – The text implies that the project, when started, was implemented:

- (A) rapidly;
- (B) slowly;
- (C) cautiously;
- (D) gradually;
- (E) carefully.

23 – The celebration mentioned occurs:

- (A) on weekends;
- (B) on Mondays;
- (C) in the afternoon;
- (D) once a month;
- (E) in 48 hours.

24 – The text refers to a project created:

- (A) one year before;
- (B) last weekend;
- (C) on a Thursday night;
- (D) years ago;
- (E) three days earlier.

25 – The city merchants were:

- (A) hostile;
- (B) supportive;
- (C) happy;
- (D) pleased;
- (E) indifferent.

26 – The war mentioned (l.4) was:

- (A) deadly;
- (B) short;
- (C) difficult;
- (D) glorious;
- (E) light.

27 – The underlined word in "children gather to paint and draw" (l.1) can be replaced by:

- (A) try;
- (B) prepare;
- (C) meet;
- (D) dress;
- (E) study.

28 – **main** in "the main downtown shopping street" (l.2) means:

- (A) messy;
- (B) narrow;
- (C) peripheral;
- (D) principal;
- (E) side.

29 – "a key victory" (l.4) means that the victory is:

- (A) irrelevant;
- (B) important;
- (C) irresponsible;
- (D) interesting;
- (E) illegal.

30 – When we say that a war is "ongoing" (l.4), we mean it is:

- (A) atypical;
- (B) unique;
- (C) intermittent;
- (D) conventional;
- (E) uninterrupted.

## CONHECIMENTOS ESPECÍFICOS

31 - Observe o trecho da definição das tabelas A, B e C mostrado a seguir:

```
create table A (a1 int not null primary key, a2 int)
create table B (b1 int not null primary key, b2 int)
create table C (a1 int, b1 int);
```

Considerando-se que os atributos a1 e b1 constituem a chave primária de C; que o atributo a1 de C é uma chave estrangeira com relação à tabela A; e que o atributo b1 de C é uma chave estrangeira com relação à tabela B, pode-se concluir que:

- (A) fica caracterizado um relacionamento N:M entre A e B;
- (B) fica caracterizado um relacionamento N:1 entre A e B;
- (C) fica caracterizado um relacionamento 1:N entre A e B;
- (D) fica caracterizado um relacionamento N:M entre A e C;
- (E) fica caracterizado um relacionamento N:M entre B e C.

32 - Num relacionamento 1:N entre as entidades X e Y, diz-se que Y tem uma dependência de identificação em relação a X quando:

- (A) a chave estrangeira em Y com relação a X referencia atributos que não compõem a chave primária de X;
- (B) a chave estrangeira em Y com relação a X é de preenchimento opcional;
- (C) a chave estrangeira em Y com relação a X faz parte da chave primária de Y;
- (D) existe uma chave estrangeira em Y que referencia X;
- (E) os atributos da chave primária de X são de preenchimento opcional.

33 - A tabela a seguir deve representar uma lista duplamente encadeada de frutas, estruturada sobre os cinco elementos de um vetor.

Elemento	Cor	Ant	Próx
1	...	4	2
2	...	1	3
3	...	2	
4	...	5	1
5	...		4

Sabendo-se que a ordem correta das cores na lista é Banana-Abacaxi-Maçã-Laranja-Manga, a coluna intitulada *Cor*, na tabela acima, deveria apresentar, de cima para baixo, o seguinte preenchimento:

- (A) Banana-Laranja-Manga-Maçã-Abacaxi;
- (B) Maçã-Banana-Abacaxi-Laranja-Manga;
- (C) Manga-Maçã-Banana-Laranja-Abacaxi;
- (D) Maçã-Laranja-Manga-Abacaxi-Banana;
- (E) Abacaxi-Maçã-Laranja-Banana-Manga.

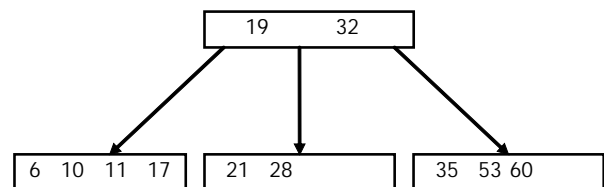
34 - Considere as seguintes afirmativas comparativas entre métodos de busca baseados em árvores **B** e funções de *hashing*:

- I. A inserção de chaves de forma não ordenada é geralmente mais lenta em métodos de *hashing*;
- II. O número médio de acessos para localização de registros tende a ser menor para métodos baseados em *hashing*;
- III. Árvores **B** não permitem acesso sequencial às chaves em ordem crescente ou decrescente de chaves;

Pode-se concluir que:

- (A) todas as afirmativas estão corretas;
- (B) somente a afirmativa II está correta;
- (C) somente as afirmativas I e II estão corretas;
- (D) somente as afirmativas II e III estão corretas;
- (E) nenhuma das afirmativas está correta.

35 - Considere o conteúdo dos nós de uma árvore **B**, de ordem 2.



Após a inserção da chave 3, as chaves do nó raiz da árvore são:

- (A) 19, 32
- (B) 6, 19, 32
- (C) 10, 19, 32
- (D) 1, 19, 32
- (E) 1, 32

36 - Uma importante etapa da criação de um modelo lógico de banco de dados calcado na tecnologia relacional é a normalização. Nessa etapa, a correta identificação das dependências funcionais permite verificar, dentre outros fatores, a adequação:

- (A) das permissões de acesso ao banco de dados;
- (B) das *constraints* de valor declaradas para os atributos;
- (C) das *stored procedures* ativadas pelo mecanismos de *triggers*;
- (D) dos tipos dos atributos;
- (E) das chaves primárias das tabelas.

37 - Em um Modelo Entidade-Relacionamento, considere uma entidade chamada Livros. Se *i* e *j* são membros desta entidade, a expressão

$$\forall i, j \in \text{Livros} [i \neq j \rightarrow i.AD \neq j.AD]$$

expressa o fato que AD é um atributo:

- (A) determinante
- (B) multivalorado
- (C) diferencial
- (D) derivado
- (E) funcional

38 - Em um Modelo Entidade-Relacionamento, considere as entidades Alunos e Professores. A expressão,

$Orientações \subseteq \{(a, p) \mid a \in Alunos \wedge p \in Professores\}$  especifica formalmente que:

- (A) Orientações é o conjunto de relacionamentos entre Alunos e Professores
- (B) o conjunto Alunos é um subconjunto de Orientações
- (C) o conjunto Orientações é um subconjunto de Alunos
- (D) o conjunto Alunos é composto por Orientações
- (E) o conjunto Orientações é composto por Alunos

39 - Suponha que uma restrição de integridade sobre uma classe de relacionamentos Inscrições possa ser expressa formalmente pela seguinte fórmula:

$$se\ Inscrições = \{(f_i, d_j) \mid 1 \leq i \leq p; 1 \leq j \leq q\} \text{ então} \\ (f_k, d_n) \in Inscrições \wedge (f_k, d_m) \in Inscrições \Leftrightarrow (d_n = d_m)$$

Podemos afirmar que a classe do relacionamento Inscrições é:

- (A) 0:1
- (B) 1:1
- (C) N:1
- (D) 0:N
- (E) N:N

40 - Em um modelo Entidade-Relacionamento, um atributo de uma Entidade que apresenta mais de um valor para a mesma entidade é conhecido como:

- (A) multivalorado
- (B) opcional
- (C) essencial
- (D) chave
- (E) referencial

41 - Considere uma árvore de busca binária perfeitamente balanceada contendo 1023 elementos. O número máximo de pesquisas que devem ser efetuadas para encontrar uma chave nesta estrutura é de:

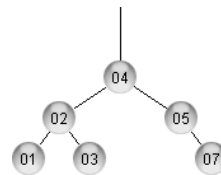
- (A) 1
- (B) 10
- (C) 128
- (D) 256
- (E) 1024

42 - Considere uma tabela hash contendo mil posições, onde se pretende armazenar um conjunto de chaves contendo, potencialmente, um milhão de valores diferentes. Supondo que esta tabela contenha 250 posições ocupadas, o valor mais próximo da probabilidade de NÃO ocorrer uma colisão ao se tentar inserir uma nova chave é:

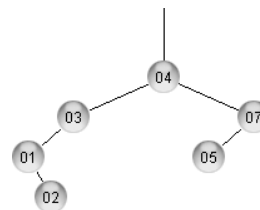
- (A) 1/1000000
- (B) 1/1000
- (C) 250/1000
- (D) 750/1000
- (E) (1000000-250)/1000000

43 - A árvore AVL produzida pela inserção das chaves (4, 5, 7, 2, 1, 3) nesta ordem, é:

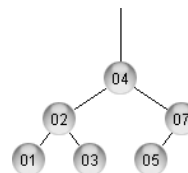
(A)



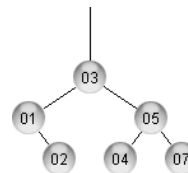
(B)



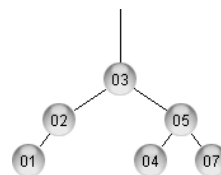
(C)



(D)



(E)



44 - Considere as seguintes assertivas sobre uma árvore B+ de ordem b com h níveis de indexação:

- I. O número máximo de registros que podem ser armazenados é  $n = b^h$
- II. O número mínimo de chaves é  $2(b/2)^{h-1}$
- III. O espaço requerido para armazenar a árvore cresce com  $O(n^3)$

As assertivas corretas são somente:

- (A) I
- (B) II
- (C) III
- (D) I e II
- (E) I e II e III

45 - Considere um conjunto contendo dois discos rígidos numa configuração espelhada. Suponha que cada disco rígido tenha um MTBF (*mean time between failures*) de cem mil horas e um MTR (*mean time to repair*) de dez horas. Neste cenário, o tempo médio em horas decorrido entre eventos de perda total de dados é, aproximadamente,

- (A) 200 mil
- (B) 500 mil
- (C) 500 milhões
- (D) 1 bilhão
- (E) 10 bilhões

46 - Considere as seguintes assertivas sobre RAIDs (*Redundant Arrays of Independent Disks*)

- I. O RAID 0 divide os dados em pequenos segmentos que são distribuídos entre dois ou mais discos. Não existe redundância.
- II. O RAID 1 cria uma cópia exata (espelhada) de um conjunto de dados em dois ou mais discos
- III. Uma das vantagens do RAID 3 sobre o RAID 1 é que ele não requer um disco dedicado para armazenar a paridade

As assertivas corretas são somente:

- (A) I
- (B) II
- (C) III
- (D) I e II
- (E) I e II e III

47 - Considere as seguintes assertivas sobre Dicionários de Dados (DD):

- I. A estrutura conceitual de um dicionário de dados consiste de três tipos de camadas: global, local e intermediária
- II. a camada global consiste na descrição dos dados de um conjunto de organizações;
- III. A camada local consiste na descrição dos dados de uma única organização;

As assertivas corretas são somente:

- A) I
- B) II
- C) III
- D) I e II
- E) I e II e III

48 - São características do Banco de Dados ADABAS:

- (A) Adjustable database, multi-threaded, escalável, não tolerante a falhas.
- (B) Relational database, multi-threaded, escalável, não tolerante a falhas.
- (C) Hierarchical database, multi-threaded, escalável, tolerante a falhas.
- (D) Adaptable database, multi-threaded, escalável, tolerante a falhas.
- (E) Adaptable database, single-threaded, não escalável, tolerante a falhas.

49 - Considere um ambiente onde estejam ativos uma task CICS e um núcleo ADABAS, todos adequadamente instalados. Neste cenário, um arquivo ADABAS somente poderá ser consultado:

- (A) Online e localmente, por uma linguagem que possa emitir comandos básicos ADABAS.
- (B) Online, local ou remotamente, por uma linguagem que possa emitir comandos básicos ADABAS.
- (C) Online ou em batch, local ou remotamente, por uma linguagem que possa emitir comandos básicos ADABAS.
- (D) Online ou em batch, local ou remotamente, por uma linguagem que possa emitir comandos básicos ADABAS ou diretamente por comandos SQL.
- (E) Online ou em batch, local ou remotamente, pela linguagem Natural.

50 - O conjunto mínimo de componentes necessário para ativar um núcleo ADABAS é:

- (A) DATA, ASSO, TEMP, JCL do núcleo ADABAS, parametrização do núcleo ADABAS.
- (B) DATA, ASSO, WORK, JCL do núcleo ADABAS, parametrização do núcleo ADABAS.
- (C) DATA, ASSO, WORK, JCL do núcleo ADABAS, parametrização do núcleo ADABAS, ADABAS SVC.
- (D) DATA, ASSO, WORK, TEMP, JCL do núcleo ADABAS, parametrização do núcleo ADABAS, ADABAS SVC.
- (E) DATA, ASSO, SORT, TEMP, JCL do núcleo ADABAS, parametrização do núcleo ADABAS, ADABAS SVC.

51 - Para cada campo definido como DESCRITOR em um banco de dados ADABAS é gerada uma lista invertida dos valores indexados e a relação dos ISN's dos registros que os contém. Neste cenário, pode-se afirmar que, em um arquivo muito atualizado, :

- (A) o custo da atualização (consumo de cpu) de um registro no arquivo independe do número de DESCRITORES.
- (B) quanto maior o número de campos DESCRITORES em um arquivo, menos CPU o núcleo ADABAS consumirá na atualização de um registro.
- (C) somente campos onde os valores se repetem muito (número de ocorrências maior que 25% do número total de registros) são candidatos a serem DESCRITORES.
- (D) a definição de campos descritores deve, idealmente, restringir-se aos campos que permitam a recuperação mais objetiva dos registros desejados.
- (E) a definição de DESCRITORES não interfere no consumo de cpu pelo núcleo ADABAS.



52 - Observe as afirmativas a seguir, referentes à realização de backups de todo o banco, via utilitários ADABAS. A única afirmativa correta é:

- (A) Durante backups ONLINE, é possível acessar os arquivos ou até mesmo excluí-los;
- (B) Durante backups ONLINE, qualquer utilitário ADABAS pode ser utilizado normalmente.
- (C) Backups ONLINE de um banco ADABAS são mais rápidos se o Protection Log não estiver ativo.
- (D) A geração de um arquivo seqüencial com os registros de um arquivo ADABAS, pode ser feita diretamente a partir do arquivo residente no banco ou de uma fita backup gerada pelo utilitário ADASAV.
- (E) O RESTORE de um backup realizado pelo utilitário ADASAV exige que os RABN's (*Relative Adabas Block Numbers*) originais estejam livres.

53 - Em um banco de dados ADABAS:

- (A) Uma vez criado um arquivo, qualquer alteração de característica de um campo, exige a deleção e recriação do arquivo.
- (B) O END TRANSACTION inativa o núcleo ADABAS.
- (C) Um item que garante a alta disponibilidade do banco é a possibilidade de alterar-se dinamicamente qualquer parâmetro do núcleo.
- (D) O Buffer Flush contém blocos de ASSO e DATA.
- (E) A menos que em sua definição seja especificado o contrário, todo campo sofre compressão "default".

54 - O software EntireX:

- (A) permite que uma consulta (*QUERY*) SQL seja realizada em um banco ADABAS;
- (B) garante a integridade de um banco ADABAS, mantendo uma imagem do mesmo;
- (C) permite a execução remota de um programa Natural e o retorno do resultado ao cliente;
- (D) É um otimizador de programas Natural;
- (E) permite o uso de arquivos ADABAS expandidos.

55 - O comando usado no OS/390 para listar os arquivos da APF list é:

- (A) DAPF,LIST
- (B) DPROGLIST
- (C) SET APF,LIST
- (D) DPROG,APF
- (E) SETPROG,APF

56 - O membro da SYS1.PARMLIB do OS/390 que contém a lista dos arquivos de paginação é:

- (A) IEASYSxx
- (B) IFAPRDxx
- (C) MPFLSTxx
- (D) IEASYMxx
- (E) SCHEDxx

57 - No OS/390, o arquivo e membro onde deve ser definido o nome do Catálogo Master são, respectivamente:

- (A) SYS1.NUCLEUS, no membro CATLGxx
- (B) SYS1.PARMLIB, no membro LPALSTxx
- (C) SYS1.IPLPARM, no membro LOADxx
- (D) SYS1.LINKLIB, no membro STSCTLGxx
- (E) SYS1.PARMLIB, no membro IEASYSxx

58 - A utilidade das "Installation Exits" para o sistema operacional OS/390 é:

- (A) prover rotinas para a impressão de dados
- (B) prover portas de saída, úteis quando o sistema operacional está em erro e necessita de um IPL.
- (C) cancelar tarefas e jobs com erros;
- (D) desativar as diversas tarefas do sistema;
- (E) disponibilizar interfaces que podem ser utilizadas para modificar ou incrementar o sistema operacional e seus componentes;

59 - Em um ambiente OS/390, os parâmetros que podem ser codificados tanto no cartão JOB quanto no cartão EXEC são:

- (A) TIME, CLASS, MSGCLASS
- (B) REGION, TIME, COND
- (C) TIME, NOTIFY, REGION
- (D) REGION, COND, CLASS
- (E) TIME, COND, PARM

60 - Em um ambiente OS/390, durante o processamento de um arquivo VSAM, ocorreu um erro e o arquivo se tornou inutilizável. A solução para corrigir o problema é:

- (A) criar um novo arquivo VSAM e copiar os dados;
- (B) executar o comando DEFRAG do IDCAMS;
- (C) executar o comando VERIFY do IDCAMS;
- (D) reprocessar o job que havia terminado com erro;
- (E) Nada pode ser feito. O arquivo VSAM foi perdido e não há como recuperá-lo.

61 - Em um ambiente OS/390, um usuário precisa submeter um job para executar um programa. Esse programa precisa de 4MB de memória virtual (o default usado pela instalação é 2MB) e usa 8 minutos de CPU (o default usado pela instalação é 2 minutos). O programa irá criar um arquivo em disco contendo 5439 registros de 512 bytes cada um. Nesse cenário, para que esse JOB execute corretamente, é necessário codificar:

- (A) SPACE=5439 no cartão DD e REGION=4M, TIME=480 no cartão JOB
- (B) REGION=(512,5439) no cartão DD e SPACE=4M, TIME=480 no cartão JOB
- (C) SPACE=5439 no cartão DD e REGION=4M, TIME=8 no cartão JOB
- (D) SPACE=(512,5439) no cartão DD e REGION=4M, TIME=8 no cartão JOB
- (E) REGION=(512,5439) no cartão DD e SPACE=4M, TIME=(00:08:00) no cartão JOB

62 - A Tabela 01 a seguir mostra uma série de comandos TSO (*Time Sharing Option*) para o sistema operacional OS/390. A Tabela 02 mostra, em ordem aleatória, as funções executadas por estes comandos.

Tabela 01

( ) EXEC
( ) RUN
( ) SEND
( ) TRANSMIT
( ) EDIT

Tabela 02

1. Modificar, criar, armazenar um arquivo
2. Enviar um arquivo para outro usuário
3. Executar uma CLIST
4. Enviar uma mensagem
5. Executar um programa

A seqüência correta de números que correlaciona cada comando na Tabela 01 com sua função na Tabela 02 é, de cima para baixo:

- (A) 4, 2, 5, 1, 3
- (B) 3, 5, 4, 2, 1
- (C) 5, 3, 4, 1, 5
- (D) 4, 1, 5, 3, 2
- (E) 2, 3, 1, 4, 5

63 - Considere um servidor instalado com o sistema operacional Windows 2000 Server, com os seguintes serviços de rede habilitados e configurados:

- I. DNS;
- II. WINS;
- III. DHCP;
- IV. IIS;
- V. RRAS;

Os serviços que têm como tarefa a resolução de nomes são:

- (A) Somente I, II e III;
- (B) Somente I e II;
- (C) Somente III, IV e V;
- (D) Somente I, III e IV;
- (E) Somente III e IV;

64 - Ao instalar em um novo computador o sistema operacional Windows 2000 Server o usuário pode informar o sistema de arquivos que será utilizado. Dentre as opções oferecidas nesta fase de instalação estão os seguintes sistemas de arquivos:

- (A) NETBIOS e FAT32;
- (B) FAT32 e DFS;
- (C) NTFS e FAT32;
- (D) LDAP e NTFS;
- (E) NETBIOS e DFS;

65 - Num ambiente Windows Server 2003 em inglês, os objetos do Active Directory que atuam como recipientes para outros objetos tais como usuários e grupos, são conhecidos como:

- (A) Organizational Units;
- (B) LDM Database Structure;
- (C) Stock Keeping Units;
- (D) Group Policy Objects;
- (E) Resource Records;

66 - Considere os tipos de grupos listados abaixo:

- I. Grupos Locais;
- II. Grupos Globais;
- III. Grupos Universais;

São tipos de grupos no Windows Server 2003:

- (A) somente I;
- (B) somente II;
- (C) somente III;
- (D) somente I e II;
- (E) I, II e III;

67 - No ambiente Linux, o comando `ps -p 142` mostrará informações sobre:

- (A) O processo com prioridade 142.
- (B) O processo de PID 142.
- (C) O processo gerador (pai) do processo de PID 142.
- (D) Os processos herdados do processo de PID 142.
- (E) Os processos com prioridade 142.

68 - No ambiente Linux, a atual permissão do arquivo `arquivo.teste` é dada por `-rwxrw-rw-`. Um comando para que as novas permissões do arquivo `arquivo.teste` sejam `-rwxr-xr-x` é:

- (A) `chmod 755 arquivo.teste`
- (B) `umask 755 arquivo.teste`
- (C) `umask 2644 arquivo.teste`
- (D) `chmod 644 arquivo.teste`
- (E) `chmod 1755 arquivo.teste`

69 - Um programa chamado `sherlock` está sendo executado em um servidor Linux. Um comando para obter informações sobre o número do processo do programa é:

- (A) `ps -la sherlock`
- (B) `ps -l | echo Sherlock > wc -l`
- (C) `less -ps sherlock`
- (D) `ps lp > sherlock`
- (E) `ps xa | grep sherlock`

70 - No ambiente Linux, a execução do comando `ls -la` forneceu o seguinte resultado:

```
drwxr-xr-x 6 aluno1 aluno1 4096 2007-08-18 14:17 .
drwxr-xr-x 16 aluno1 aluno1 4096 2007-08-18 13:56 ..
-rw-rw-rw- 1 aluno1 aluno1 2 2007-08-18 13:14 dados1
drwsr-sr-x 2 aluno1 aluno1 4096 2007-08-18 11:08 sabido
-rw-rw-rw- 1 aluno1 aluno1 114 2007-08-18 13:56 teste1
-rw-rw-rw- 1 aluno1 aluno1 60 2007-08-18 13:23 teste2
drwxr-xr-x 2 aluno1 aluno1 4096 2007-08-18 14:17 dirteste
drwxr-xr-x 2 aluno1 aluno1 4096 2007-08-18 14:17 dir2
drwxr-xr-x 2 aluno1 aluno1 4096 2007-08-18 14:17 .config1
```

O resultado da execução do comando `ls -lA | grep “^d” | wc -l` é:

- (A) 2
- (B) 4
- (C) 5
- (D) 1
- (E) 6

---

## PROVA DISCURSIVA

### Questão 1

Descreva o que é o Buffer Pool do ADABAS, qual o benefício que ele traz, e como é feita a gerência de seu conteúdo.

### Questão 2

Descreva como pode ser feita a emissão de comandos para um núcleo ADABAS sem usar a linguagem Natural. Cite três comandos básicos (códigos de comandos básicos) que podem ser emitidos usando-se esta técnica.

### Questão 3

Em que cenário o comando READ físico é indicado para ler todo um arquivo ADABAS? Cite duas vantagens propiciadas por esta técnica.



**Núcleo de Computação Eletrônica**  
Universidade Federal do Rio de Janeiro

Prédio do CCMN - Bloco C  
Cidade Universitária - Ilha do Fundão - RJ  
Central de Atendimento - (21) 2598-3333  
Internet: <http://www.nce.ufrj.br>